

COLLÈGE JEAN RACINE

BREVET BLANC : Mars 2024

Épreuve : Histoire, Géographie, Enseignement moral et civique
Notation sur 50

Durée : 2 heures

AVERTISSEMENT AU CANDIDAT

Vous devez :

- 1) traiter tous les sujets (Partie 1, partie 2 et enseignement moral et civique)
- 2) Apporter le plus grand soin au niveau de l'orthographe et de l'écriture. Les réponses qui ne seront pas entièrement rédigées ne seront pas évaluées !
- 3) Le sujet comporte 5 pages, vérifier qu'il est complet
- 4) La totalité du sujet est à rendre avec la copie en y portant le numéro de d'anonymat

Numéro d'anonymat :

BARÈME

HISTOIRE	20 points
GÉOGRAPHIE	20 points
ENSEIGNEMENT MORAL ET CIVIQUE	10 points
TOTAL :	50 points







Exercice 1 : Maîtriser différents langages pour raisonner et se repérer (20 points)

1- HISTOIRE : les régimes totalitaires (15 points)

Sous la forme d'un développement construit d'un minimum de vingt lignes, montrez que **l'URSS de Staline ou l'Allemagne nazie est un régime totalitaire**. Vous devez traiter **au choix un seul exemple de régime totalitaire** et non les deux sous peine d'être sanctionné.

2- REPÈRES D'HISTOIRE : 5 pts

a- Notez dans le cadre situé sous la photo la date de chaque événement.

<p>A- Les lois de Nuremberg</p>  <p>(Année)</p>	<p>B- Armistice : fin de la Première Guerre mondiale</p>  <p>(Jour, mois, année)</p>	<p>C- Fin de la Seconde Guerre mondiale en Europe</p>  <p>(Jour, mois, année)</p>	<p>D- Bataille de Verdun</p>  <p>(Année)</p>	<p>E- Bombe atomique sur Hiroshima</p>  <p>(Mois et année)</p>	<p>F- Arrivée au pouvoir d'Hitler</p>  <p>(Année)</p>
--	--	--	--	--	---

b- Sur la frise chronologique suivante, placez :

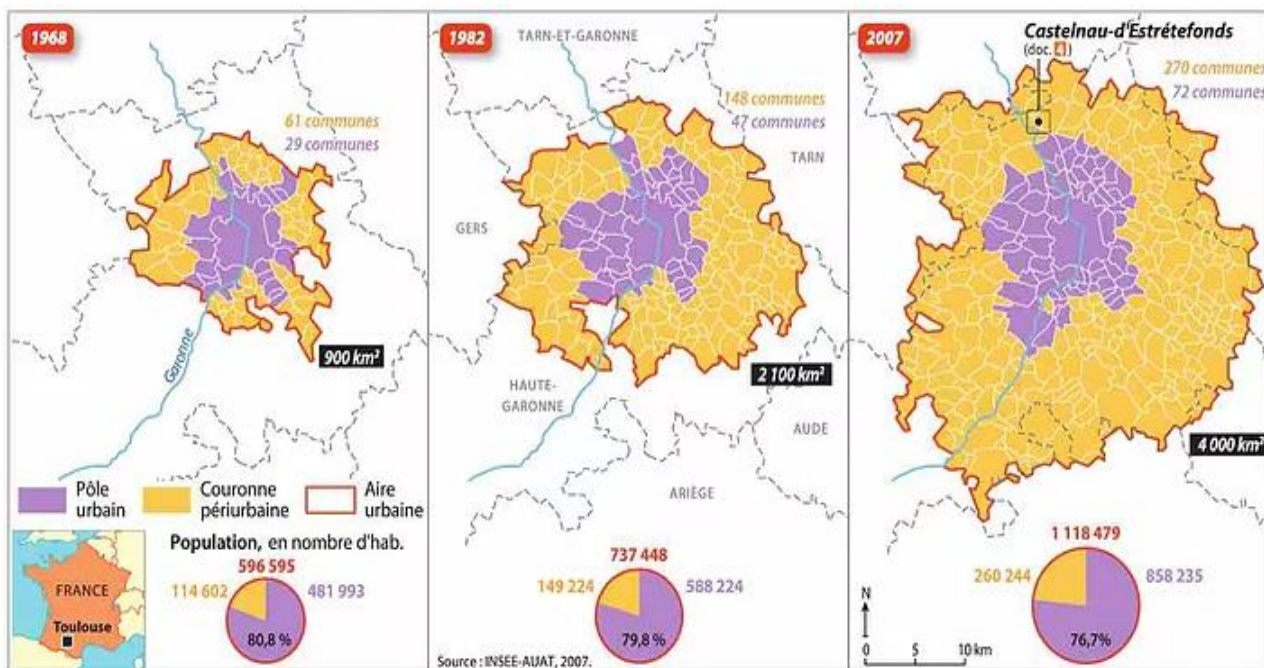
- la victoire du Front Populaire en France (année)
- la période de la Seconde Guerre mondiale (début et fin)



Exercice 2 : Analyser et comprendre un ou plusieurs documents

Géographie : les aires urbaines françaises

Doc.1. L'évolution de l'aire urbaine de Toulouse (source : INSEE-AUAT, 2007)



Doc .2 : un nouveau PDU* pour Toulouse (*lire le document).

Mercredi 7 février 2018, le **comité syndical de Tisséo** a approuvé le **nouveau plan de déplacements urbain (PDU)** de l'agglomération de Toulouse. Un plan qui prévoit les projets de transports à concrétiser d'ici 2030. Ce PDU contient des projets déjà lancés ou qui vont être lancés dans les années à venir. Il comprend la réalisation de **la troisième ligne de métro**, la **création de dix lignes de bus Linéo d'ici 2020** (certaines ont déjà été mises en service) et des extensions de ces lignes d'ici 2030, le **doublement de la capacité de la ligne A du métro** dont les travaux ont débuté et vont se terminer en 2019, **l'extension du tramway** vers le futur parc des Expositions de Beauzelle dont les travaux ont commencé et la **réalisation d'un téléphérique urbain** entre Rangueil et l'Oncopole. Voici pour les gros projets (...)

Ses objectifs sont multiples : desservir directement plus de la moitié des habitants de l'agglomération toulousaine d'ici 2025 (...) et 65% des emplois de l'agglomération sur la même période (...).

Ce projet qui prévoit aussi (...) des investissements en faveur du vélo et une amélioration des connexions avec les lignes de chemin de fer vise à augmenter singulièrement la part des transports en commun dans les modes de transports choisis par les habitants de l'agglomération.

www.actu.fr, 8/02/2018

1. Présenter le document 1 (1 pt).
2. Définir ce qu'est une aire urbaine (1 pt).
3. Comment le pôle urbain et l'aire urbaine ont-ils évolué entre 1968 et 2007 (justifier) ? (2 pts)
4. A l'aide de vos connaissances, expliquez cette évolution (1 pt).
5. Citez 4 projets du comité syndical de Tisséo (2 pts).
6. Relevez les deux principaux objectifs de ces projets (2 pts).
7. Recopiez sur votre copie la bonne définition correspondant à chaque expression (1 pt) :

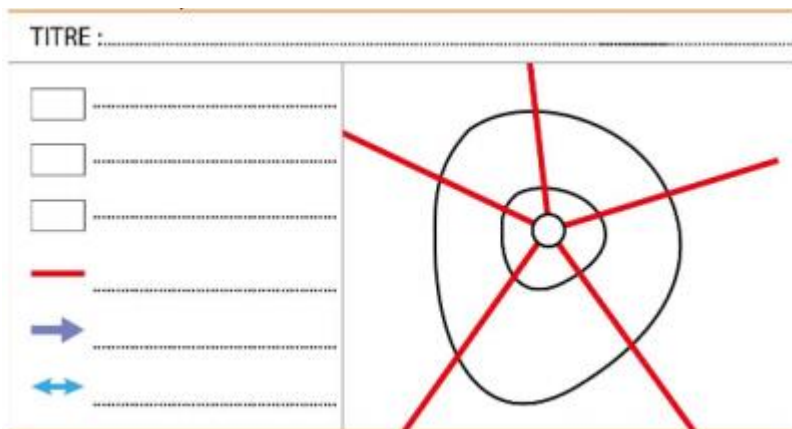
- migrations pendulaires : déplacements saisonniers domicile-lieu de vacances.
déplacements à l'étranger avec décalage horaire.
déplacements quotidiens domicile-travail.

- périurbanisation : construction de nouveaux quartiers autour des villes.
- construction de nouveaux quartiers en centre-ville.
- urbanisation d'espaces ruraux isolés.

8) Portez sur la carte ci-dessous 10 aires urbaines (5 points)



9) Schéma d'une aire urbaine : Complétez le schéma ci-dessous sans oublier titre et légende (5 points)



Exercice 3. Mobiliser des compétences relevant de l'enseignement moral et civique (10 points).

EMC - Principes, valeurs et symboles de la citoyenneté française

Document 1 : Article 1 de la constitution de 1958 (extraits)

La France est une République indivisible, laïque, démocratique et sociale. Elle assure l'égalité devant la loi de tous les citoyens sans distinction d'origine, de race ou de religion. Elle respecte toutes les croyances.[...]

Attentat déjoué du Thalys : les 3 héros américains ont reçu la nationalité française



« Bienvenue dans la famille française. » Les trois Américains considérés comme des héros pour avoir déjoué l'attaque d'un djihadiste dans un train Thalys en 2015, entre Amsterdam et Paris, ont été officiellement accueillis jeudi dans la citoyenneté française

« Aujourd'hui, la France est fière et heureuse de vous accueillir », a écrit Emmanuel Macron dans sa lettre de naturalisation officielle. « Vous disposez désormais de la plénitude des droits qui s'attachent à la citoyenneté française et européenne et devez en assumer pleinement tous les devoirs. Notre République et l'Union européenne ont besoin de votre participation active pour faire vivre la démocratie », a-t-il ajouté.

Document 2 D'après *le Parisien*, 1^{er} février 2019

1. Doc 1 : quelles sont les 3 valeurs de la République ? (1.5 point)
2. Citez 2 symboles de la République (1 point)
3. Expliquez ce qu'est une « république indivisible » (doc1) (1 point)
4. Expliquez ce qu'est une république sociale. Citez un exemple de mesure prise pour assurer ce principe (1.5 point)
5. Doc 2 Citez un droit et un devoir liés à la nationalité française (1 point)
6. Doc 2 Pourquoi le Président Macron parle-t-il de citoyenneté européenne ? Depuis quand et avec quel traité cette citoyenneté est-elle mise en place ? (1 point)
7. Rédigez un petit texte qui expliquera comment, à part la naturalisation dont ont bénéficié les 3 Américains, il est possible d'obtenir la nationalité française ? (3 points)