

Fiche de contrôle de connaissances

Géographie 6^e

Se repérer sur la Terre

■ Je sais définir et utiliser dans une phrase :

-- Echelle -- Continent -- Océan -- Equateur -- Pôle -- Hémisphère -- Parallèle -- Méridien

■ Je sais nommer et localiser (placer) sur une carte :

- Mon département
- Ma région et les régions voisines
- Les pays voisins de la France
- Les continents et les océans
- Les lignes imaginaires du globe terrestre

■ Je sais me repérer sur une carte en utilisant :

- Les points cardinaux
- Une échelle
- Les coordonnées géographiques

**SE REPÉRER
SUR LA TERRE**

Les cartes thématiques, les cartes topographiques, les schémas, les croquis, les photos aériennes et les images satellite sont les documents du géographe.

Aujourd'hui, la résolution du numérique avec des logiciels performants (Google Earth, géoportail) permet d'avoir accès à des données très précises facilitent l'exploration de l'échelle locale à l'échelle mondiale.

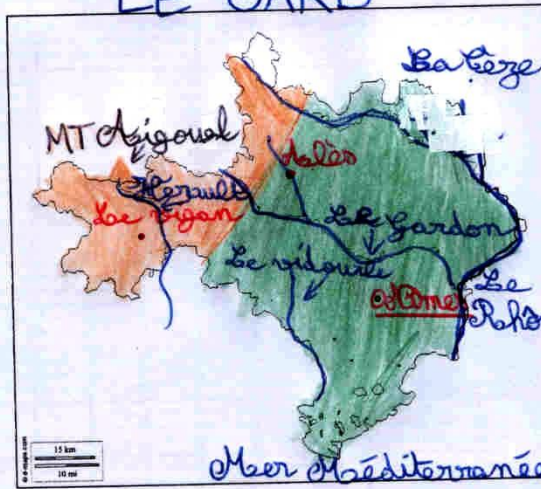
I) Où mon collège se situe-t-il ? (Voir carte)

Mon collège se situe à obliès, une ville de 42 000 habitants au bord du Gardon, entre les Gervennes et le Rhône au nord du Gard.

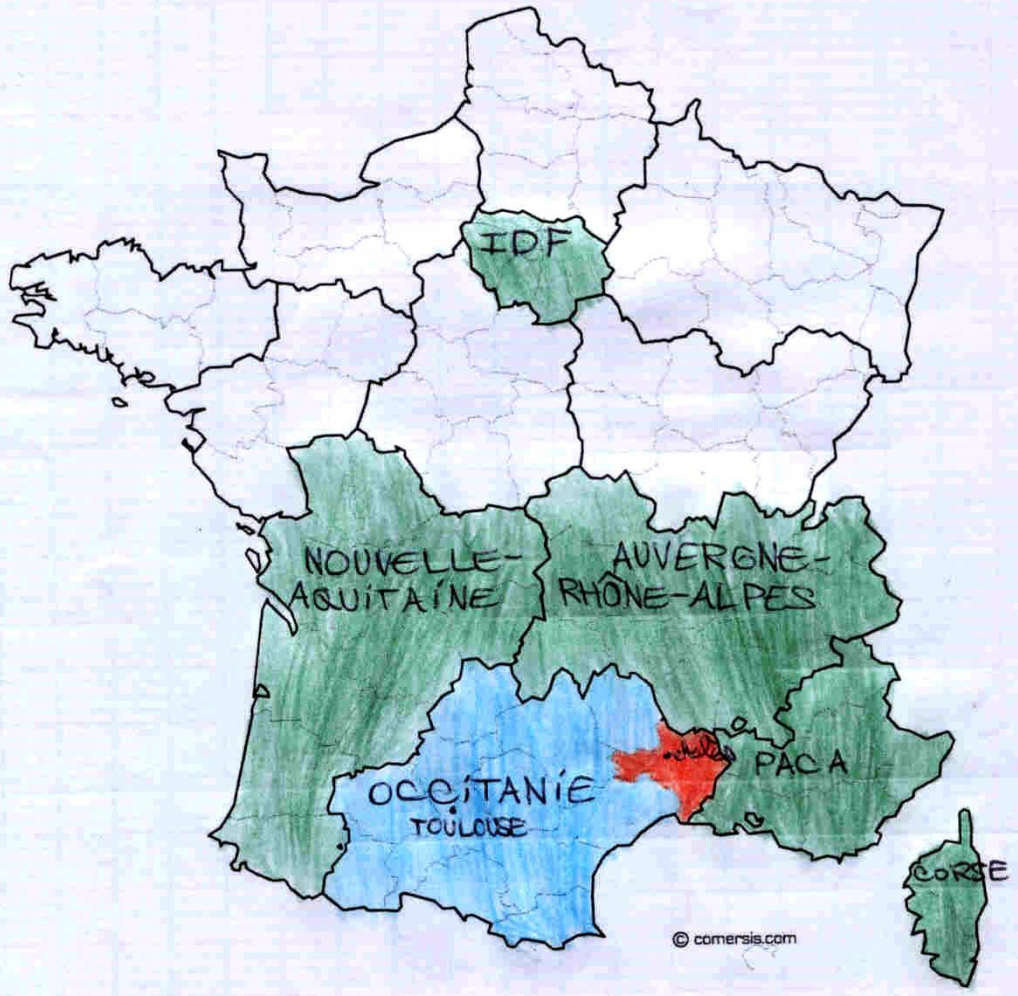
Depuis 2016, le Gard appartient à la nouvelle région Occitanie située dans le sud de la France.

Carte 1

LE GARD



- Légende
- Préfecture
 - sous-préfecture
 - Préfectures
 - Le fleuve
 - MER
 - CÉVENNES
 - ▲ Point culminant
 - Plaine



II) Où la France se situe-t-elle ?

1) Sur un planisphère

a) En Europe (Voir carte 2)

La France est située en Europe de l'ouest, elle y occupe une position de carrefour.

1. Sur la carte, coloriez en rouge la France et écrivez son nom.

2. Sur quel continent la France est-elle située ?

Elle est située en Europe.

3. Nommez les pays limitrophes de la France selon leur numéro sur la carte.

1 Belgique - Bruxelles

2 Luxembourg

3 Allemagne - Berlin

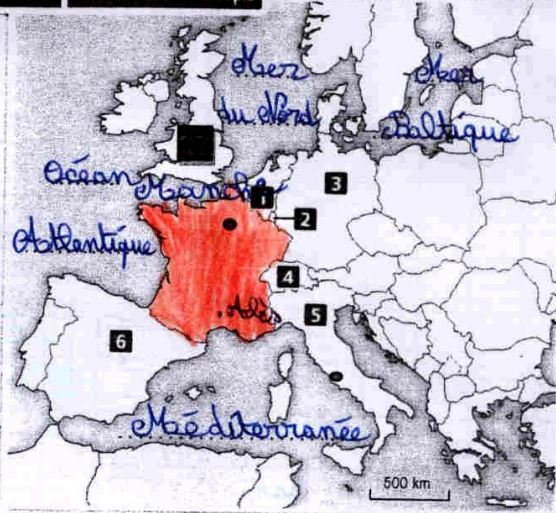
4 Suisse - Berne

5 Italie - Rome

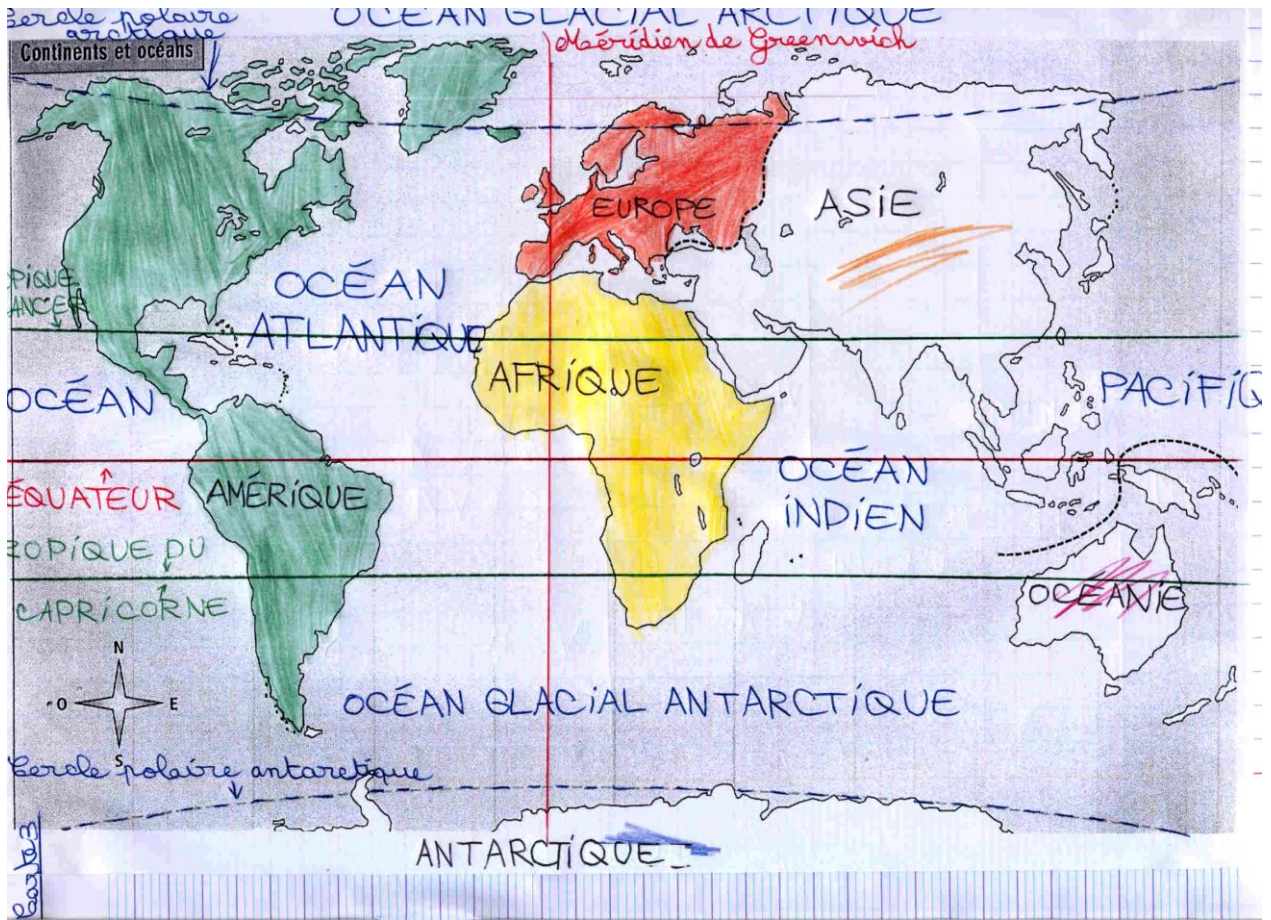
6 Espagne (Madrid) Royaume-Uni (Londres)

4. Sur la carte, écrivez les noms de l'océan et des mers qui bordent le continent européen.

Doc. 1 La France en Europe

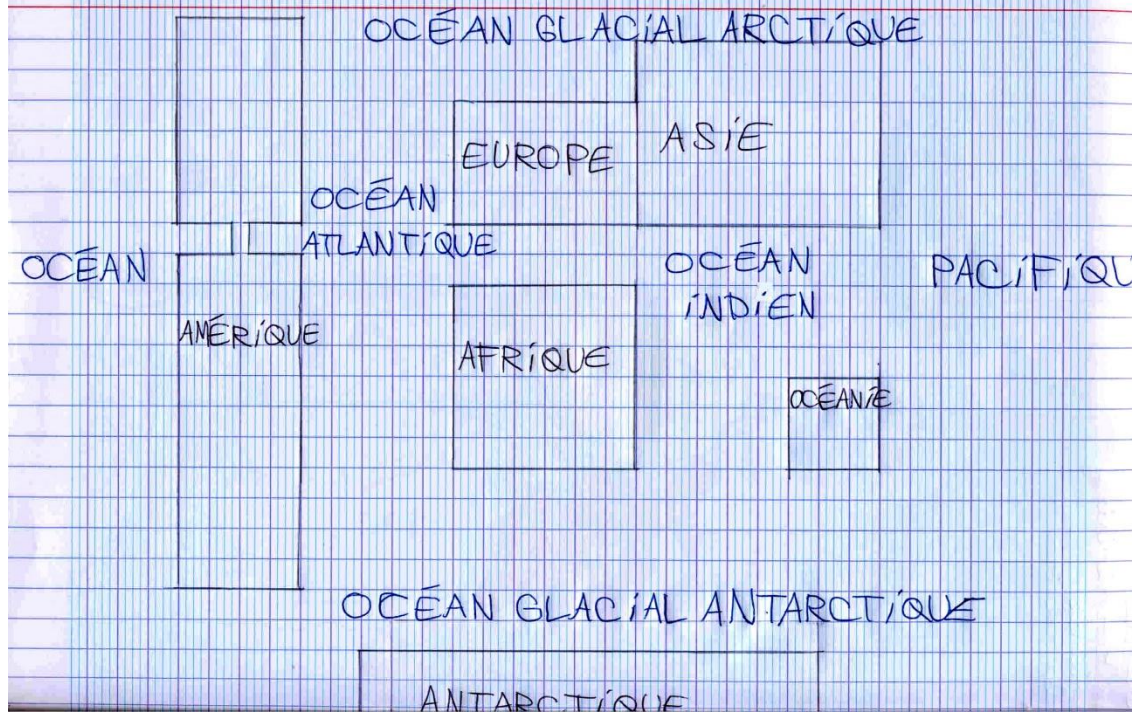


b) Dans le monde : Océans et continents
(Voir carte 3)



- Légende
- 6 CONTINENTS
 - 5 Océans
 - + Équateur, méridien
 - ° Tropiques
 - ° Cercles polaires

Schéma simplifié du monde

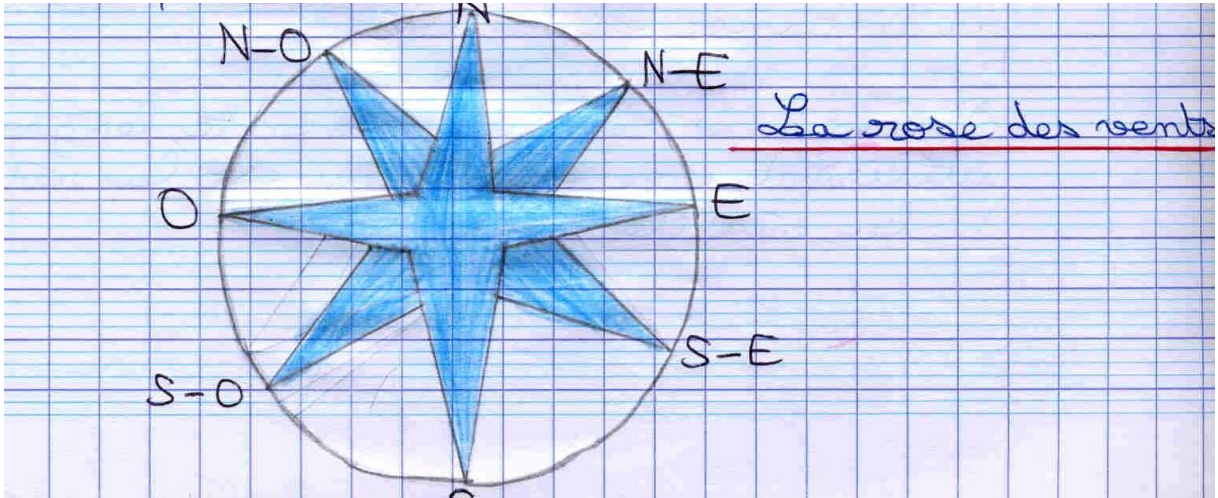


La France est située en Europe, l'un des 6 continents (Asie, Océanie). La Terre est aussi appelée la planète bleue car il y a plus d'eau que de terre (71%).

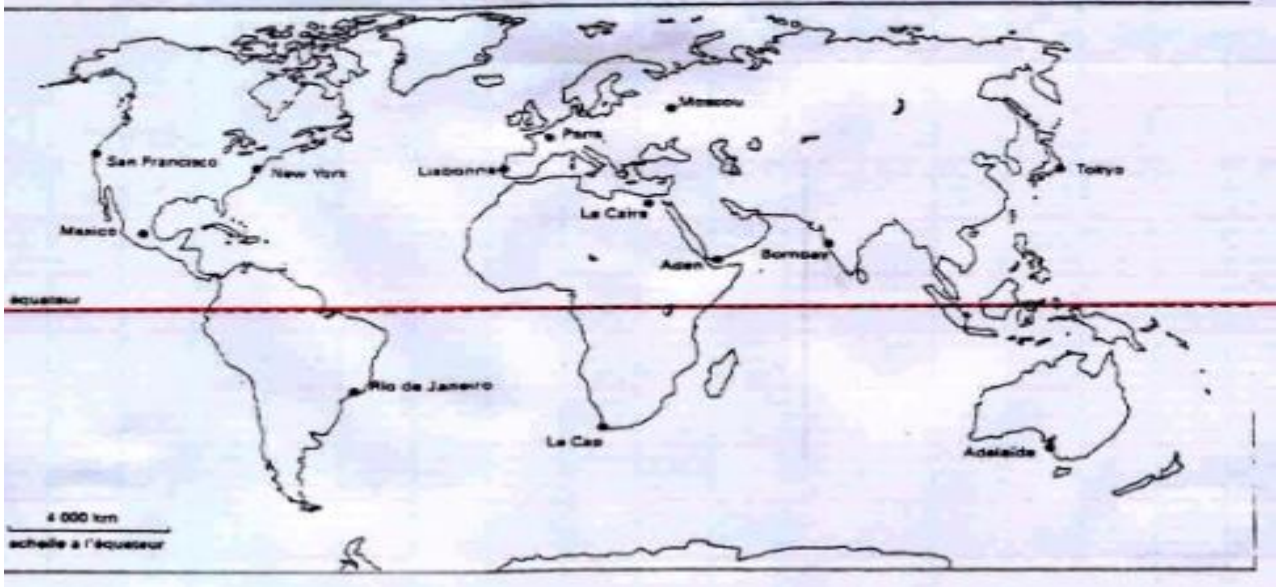
CONTINENT: Vaste étendue de terre entourée d'eau salée

OCÉAN: Vaste étendue d'eau salée entourée de terre

c) S'orienter avec les points cardinaux



la ville à l'Ouest de New York : San Francisco
une ville à l'Est d'Aden : Bombay
une ville au S E de Paris : Le Caire
une ville au SW de New York et au NW de Rio : Mexico



Les points cardinaux permettent de **s'orienter** sur une carte.

2) Sur un globe terrestre

a) Les lignes imaginaires

Pôles : deux points situés aux extrémités nord et sud de la Terre.
D'après la définition ci-dessus, nommez les 2 pôles sur le globe terrestre.


Écrivez les définitions de :

Équateur : ligne séparant la Terre en deux parties égales.

Parallèle : ligne parallèle à l'équateur.

Sur le globe, nommez les 5 lignes imaginaires parcourant la Terre.

Hémisphère : les 2 parties de la Terre séparées par l'équateur.
D'après la définition ci-dessus hachurez en vert l'hémisphère nord et en jaune l'hémisphère sud.



Hémisphère : moitié de Terre

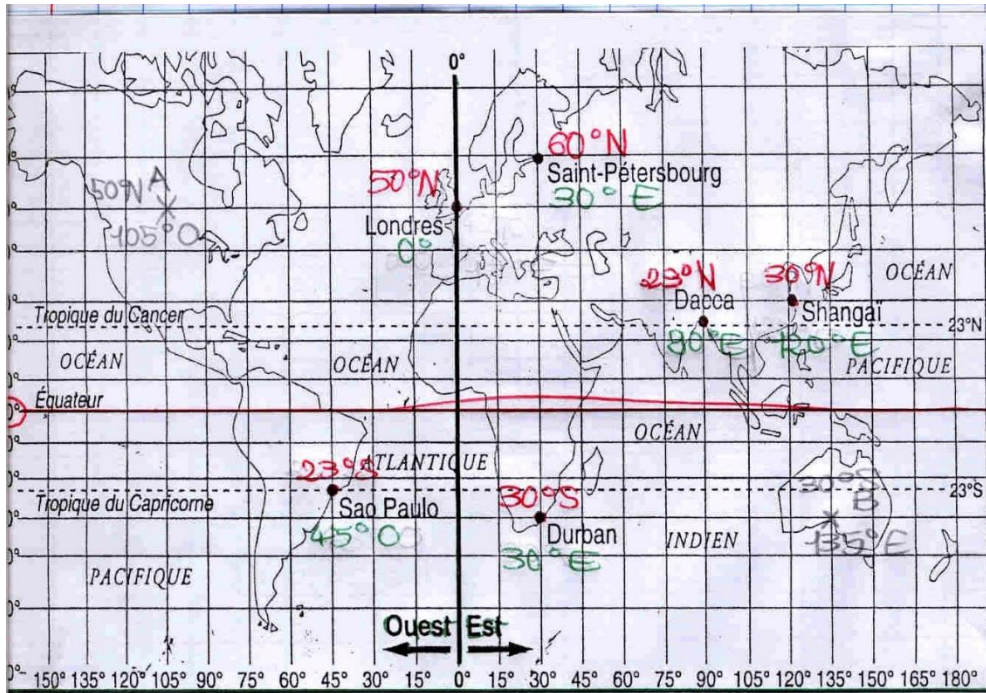
Pôle : extrémité de la Terre

Méridien : ligne rejoignant les deux pôles

Les lignes imaginaires quadrillent la surface de la Terre ce qui permet de s'y repérer plus facilement.

b) Les coordonnées géographiques : latitude et longitude

La latitude et la longitude, les coordonnées géographiques, permettent de situer et localiser avec une très grande précision.



La latitude est la distance mesurée en degrés entre un point et l'équateur (N ou S).

La longitude est la distance mesurée en degrés entre un point et le méridien de Greenwich (O ou E).