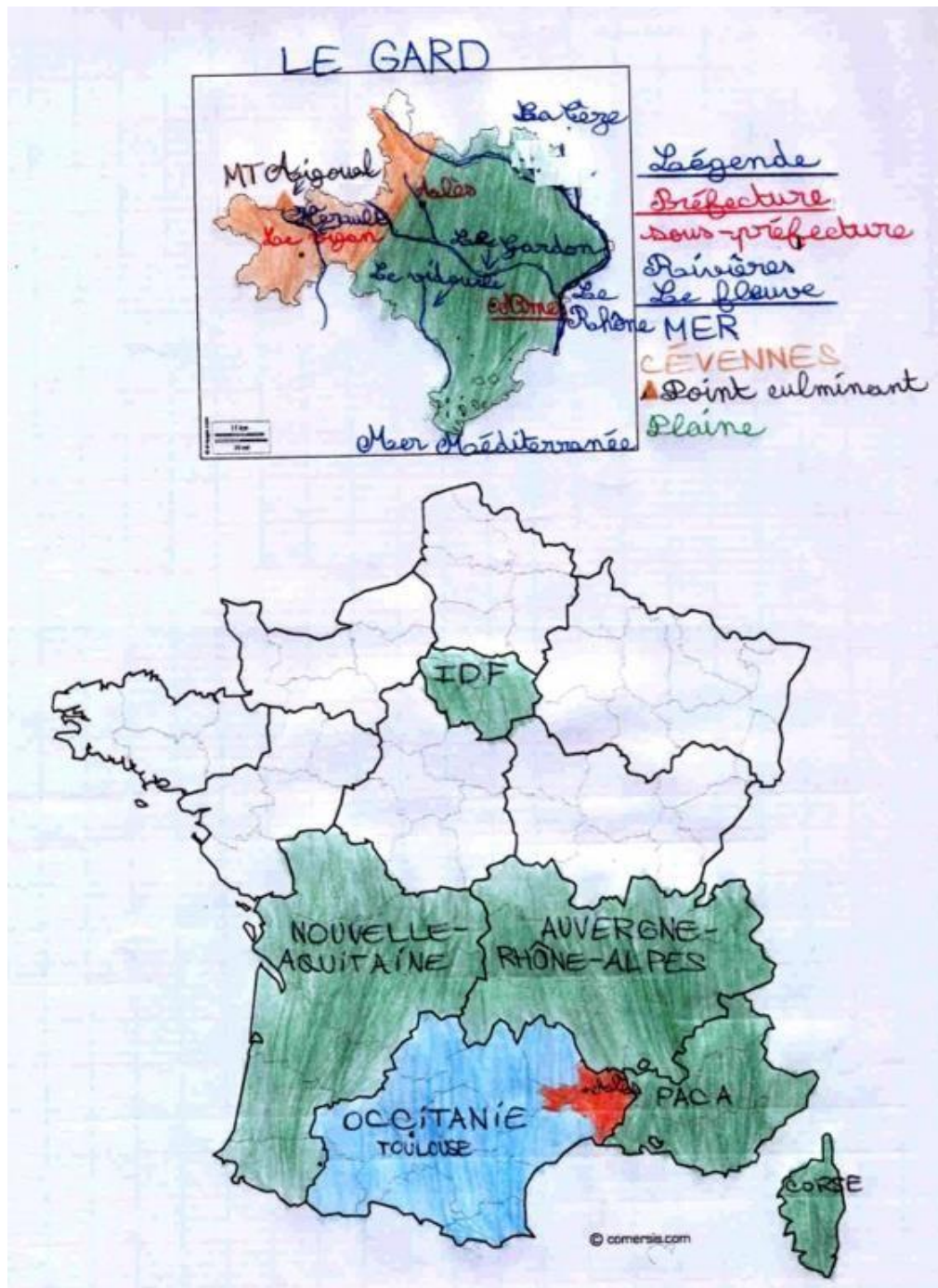


SE REPÉRER SUR LA TERRE

Les cartes, les plans, les croquis, les photographies aériennes, les images satellites Géoportail et Google Earth) sont les outils du géographe permettant d'explorer toutes les **échelles** (niveau auquel on étudie une carte ou un paysage) de l'espace local au monde.

I. Où mon collège se situe-t-il ?



Mon collège se situe au nord du département du Gard dans la région Occitanie.

II. Où la France se situe-t-elle ?

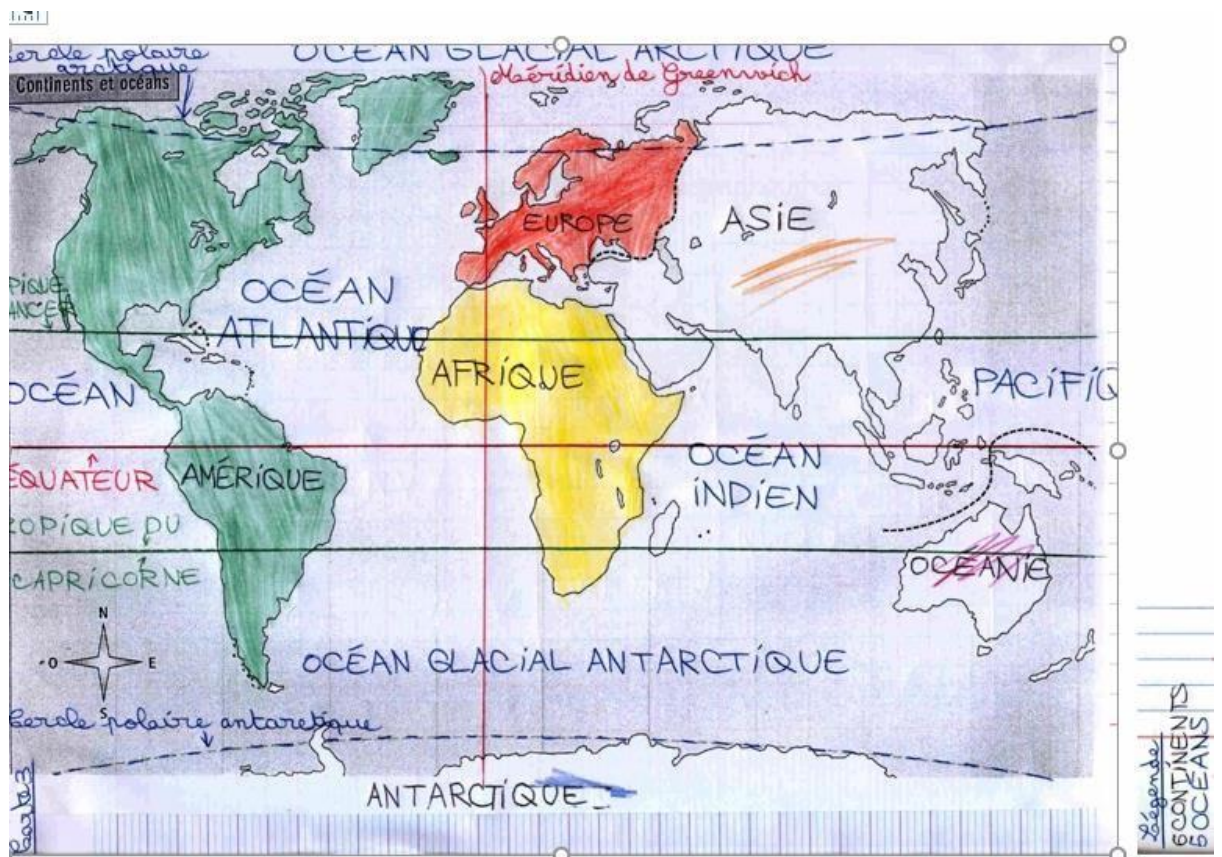
1) Sur un planisphère


a) En Europe

1. ☒ Sur la carte, coloriez en rouge la France et écrivez son nom.
2. ☒ Sur quel continent la France est-elle située ?
Elle est située en Europe.
3. ☒ Nommez les pays limitrophes de la France selon leur numéro sur la carte.
 - 1 Belgique - Bruxelles
 - 2 Luxembourg
 - 3 Allemagne - Berlin
 - 4 Suisse - Berne
 - 5 Italie - Rome
 - 6 Espagne (Madrid) Royaume-Uni (Londres)
4. ☒ Sur la carte, écrivez les noms de l'océan et des mers qui bordent le continent européen.



b) Océans et continents





La France est située en Europe **dans l'hémisphère Nord**. La Terre est aussi appelée la « **planète bleue** » car il y a plus d'eau (**5 océans**) que de terre.

Continent : vaste étendue de terre entourée par de l'eau

Océan : vaste étendue d'eau entourée par la terre

